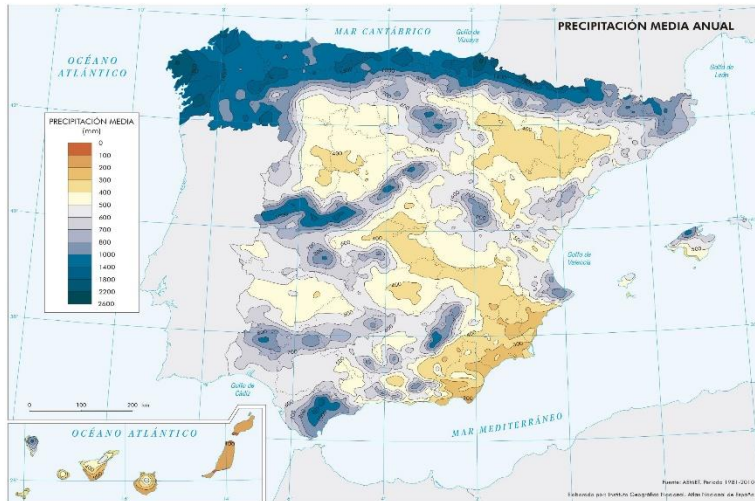


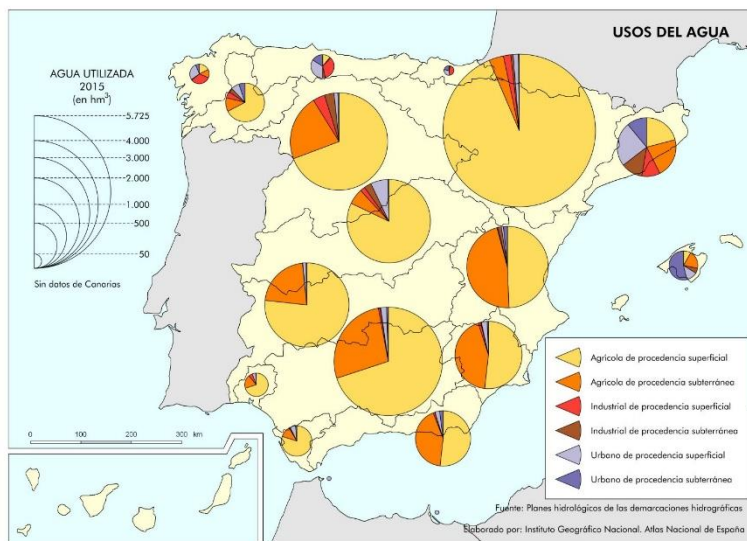
Instrucciones: el estudiante deberá contestar a las preguntas haciendo la elección que se detalla en cada una de ellas. Como criterio general de corrección para el conjunto de la prueba se valorará la presentación, la ortografía y la redacción.

I.- EJERCICIO PRÁCTICO. Elegir **UNO** entre los siguientes tres ejercicios. Puntuación máxima: **2.5** puntos.



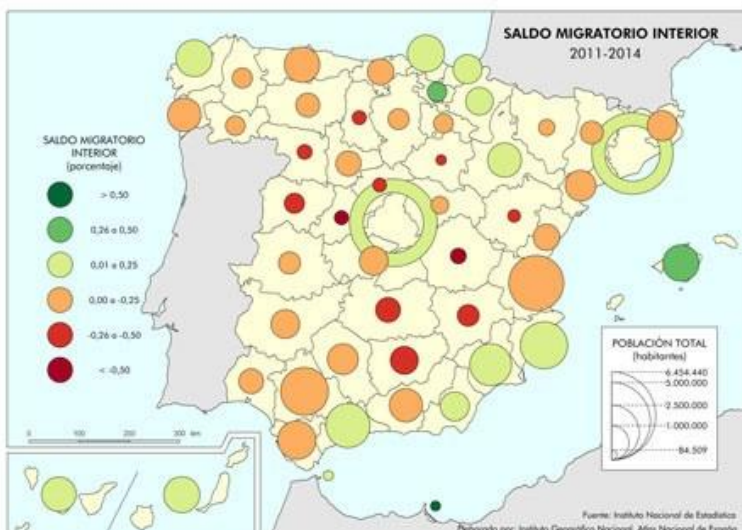
I.A.- Analizar el siguiente mapa:

- 1.- Describir el fenómeno que cartografía.
- 2.- Explicar las diferencias de colores en función de los factores que generan más o menos precipitaciones.
- 3.- Establecer consecuencias naturales, económicas y sociales derivadas de este fenómeno.



I.B.- Comentar el mapa de acuerdo con el siguiente guion:

- 1.- Describir el fenómeno que cartografía.
- 2.- Explicar las diferencias que existen entre las demarcaciones, tanto en valor absoluto como en la participación de cada tipo de uso.
- 3.- Emitir hipótesis sobre las consecuencias económicas y sociales del fenómeno analizado.



I.C.- Comentar el mapa de acuerdo con el siguiente guion:

- 1.- Describir el fenómeno que estudia.
- 2.- Explicar las variaciones territoriales del fenómeno, tanto en cifras absolutas como porcentuales.
- 3.- Emitir hipótesis sobre las consecuencias económicas y sociales del fenómeno analizado.

Instrucciones: el estudiante deberá contestar a las preguntas haciendo la elección que se detalla en cada una de ellas. Como criterio general de corrección para el conjunto de la prueba se valorará la presentación, la ortografía y la redacción.

II.- EJERCICIO TEÓRICO. Puntuación máxima: 3 puntos (1,5 para cada pregunta). Responder a **DOS** de las siguientes preguntas:

II.A.- Unidades del relieve: la Meseta.

II.B.- Unidades del relieve: los rebordes montañosos.

II.C.- La red urbana española y su jerarquía. Características y condicionantes.

II.D.- Las crisis económicas y las reconversiones industriales.

III.- CONCEPTOS. Puntuación máxima: 2 puntos (0,5 para cada pregunta). Responder a **CUATRO** de los siguientes conceptos:

-Cartografía

-Perfil edáfico

-Bosque mediterráneo

-Población activa

-Solana

- I+D+i

-Agricultura ecológica

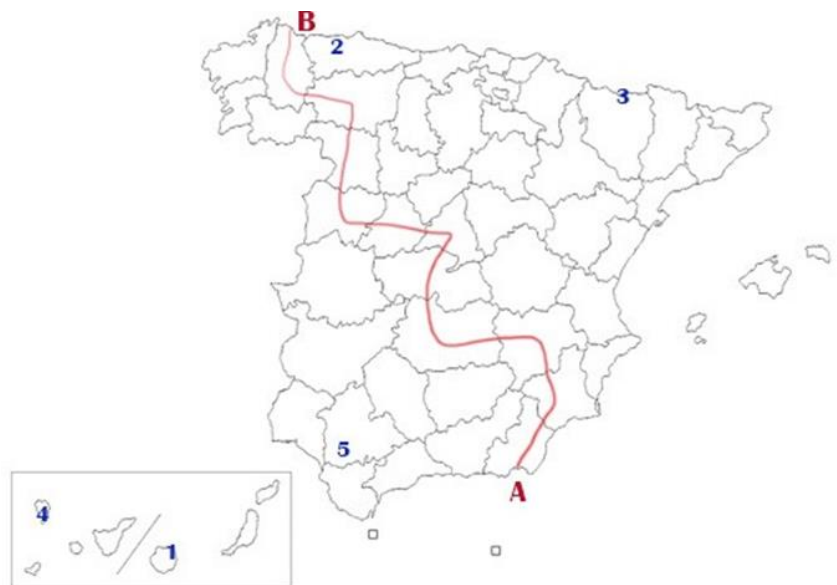
-Modelo de transición demográfica

IV.- LOCALIZACIÓN. Puntuación máxima: 2.5 puntos. Elegir **UNO** de los siguientes mapas.

Citar las unidades del relieve, ríos y provincias que atraviesa la línea desde A hasta B y localizar los topónimos en los lugares numerados del 1 al 5.

IV.A.- Citar las unidades del relieve, ríos y provincias que atraviesa la línea desde A hasta B y localizar los topónimos en los lugares numerados del 1 al 5

1.- Isla:
2.-Capital autonómica:
3.-Pico:
4.-Parque Nacional:
5.- Humedal:



IV.B.- Citar las unidades del relieve, ríos y provincias que atraviesa la línea desde A hasta B y localizar los topónimos en los lugares numerados del 1 al 5

1.- Capital autonómica:
2.- Pico:
3.-Parque Nacional:
4.-Parque Nacional:
5.- Accidente costero:

